

Schildpadden

Sommige mensen hebben een schildpad als huisdier. Bepaalde soorten houden onder natuurlijke omstandigheden een winterslaap. De eigenaar kan ervoor kiezen om zijn schildpad ook in winterslaap te laten gaan, omdat hij anders de hele winter extra licht en warmte moet geven aan zijn huisdier. Een schildpad moet een gezond gewicht hebben bij het begin van zijn winterslaap, anders is er een kans dat hij het niet overleeft. Om vast te stellen of de schildpad een gezond gewicht heeft, wordt vaak de **Jackson Ratio** gebruikt.

De Jackson Ratio R wordt berekend met de formule $R = \frac{G}{L^3}$.

Hierin is G het gewicht van de schildpad in gram en L de lengte van het schild van de schildpad in cm.

Voor de Griekse landschildpad geldt de volgende vuistregel: een schildpad kan veilig aan een winterslaap beginnen als zijn Jackson Ratio tussen 0,18 en 0,22 ligt.

Jesse heeft een Griekse landschildpad met een schildlengte van 15 cm en wil hem een winterslaap laten houden.

- 3p 18 Bereken in hele grammen nauwkeurig tussen welke waarden zijn gewicht dan mag liggen volgens de vuistregel.

De lengte van het schild moet recht gemeten worden, bijvoorbeeld door de schildpad met ingetrokken kop tussen een schuifmaat te zetten (zie foto 1). Veronderstel dat iemand toch de lengte over het schild heen meet (zie foto 2).

foto 1


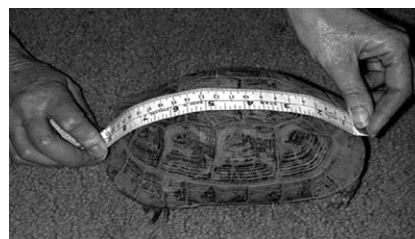


foto 2



- 3p 19 Beredeneer of een schildpad door op die manier te meten een grotere of een kleinere Jackson Ratio krijgt dan hij in werkelijkheid heeft.

Op een Engelse website staat het volgende: als je het gewicht meet in Engelse ponden (lbs) en de schildlengte in inches, kun je de Jackson Ratio berekenen met de formule $R = c \cdot \frac{W}{l^3}$.

Hierin is W het gewicht in Engelse ponden en l de schildlengte in inches.

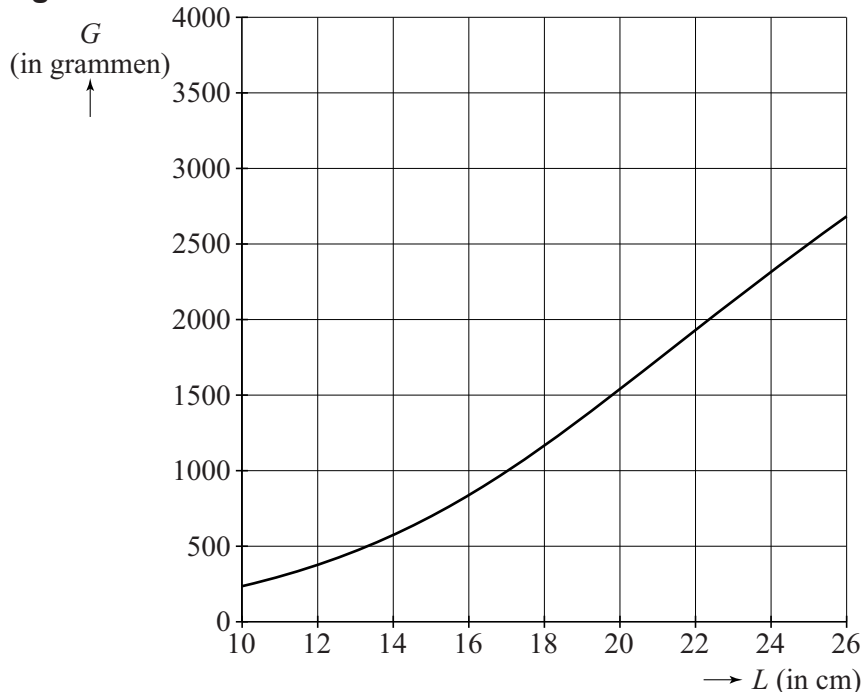
1 Engels pond (lb) \approx 454 gram en 1 inch = 2,54 cm.

De Jackson Ratio moet dan ook weer dezelfde waarde opleveren.

- 3p 20 Bereken de waarde van c in deze formule. Rond je antwoord af op één decimaal.

Een andere manier om te bepalen of een Griekse landschildpad veilig aan een winterslaap kan beginnen, is met behulp van de grafiek in onderstaande figuur. De grafiek geeft het gewicht van gezonde schildpadden als functie van de schildlengte. Als een schildpad met zijn lengte en gewicht in de buurt van deze grafiek zit, is het veilig om hem in winterslaap te laten gaan.

figuur



We vragen ons af of de grafiek van de figuur bij benadering overeenstemt met de eerder genoemde vuistregel. Om dit te onderzoeken kunnen we in de figuur de grafieken tekenen van de onder- en de bovengrens die horen bij de eerder genoemde vuistregel en vervolgens het gebied dat hoort bij die vuistregel in de figuur aangeven. De figuur staat ook op de uitwerkbijlage.

- 6p 21 Geef in de figuur op de uitwerkbijlage het gebied aan waarin een schildpad zich volgens de vuistregel met zijn schildlengte en gewicht moet bevinden om veilig aan een winterslaap te kunnen beginnen.

uitwerkbijlage

21

